



AD SOY AD :

Geliştirilmeli (0-10)	Yeterli (10-20)	İyi (20-30)	Çok iyi (30-40)
--------------------------	--------------------	----------------	--------------------

SOSYAL BİLGİLER DERSİ 2. DEĞERLENDİRME ETKİNLİĞİ

1) Aşağıdaki cümlelerden doğru olanların başına D, yanlış olanların başına Y harfini yazınız.

- (.....) Yönümüzü en doğru ve kolay olarak yıldızlara bakarak buluruz.
- (.....) Kimlik kartı (nüfus cüzdanı) 18 yaşından sonra verilir.
- (.....) “Şerife Bacı” İstiklal Savaş’ımızın kadın kahramanlarından.
- (.....) Barajlar, yollar, tüneller, köprüler beşeri unsurlardır.
- (.....) Pusulanın renkli ucu kuzey batıyı gösterir.
- (.....) TBMM 23 Nisan 1920’ de açıldı.
- (.....) Bilgisayar oyunları, geçmişten günümüze gelen çocuk oyunlarından.
- (.....) Sakarya Savaşı sonunda Mustafa Kemal’e “Gazi” unvanı ve “Mareşal” rütbesi verildi.
- (.....) Osmanlı İmparatorluğu’ nun toprakları Mondros Ateşkes Antlaşması ile işgal edilmişti.
- (.....) Doğu Cephesi komutanı Mustafa Kemal Atatürk’ tür.

2) Aşağıdaki boşlukları verilen kelimelerden doğru olanı seçerek uygun şekilde tamamlayınız.

empati	pusula	kuzeyi	güneye	Samsun’a
Hasan Tahsin	Yunanlılarla	doğal unsur	Kazım Karabekir	kronoloji

- En kolay ve en doğru yön bulma yolu..... ile yön bulmadır.
- Ağaçların ve taşların yosunlu kısımları gösterir.
- Milli Mücadele (Kurtuluş Savaşı) Atatürk’ün çıkmasıyla başladı.
- Milli Mücadele’de İzmir’de Yunanlılara ilk kurşunu sıkmıştır.
- İnsanın kendisini başkasının yerine koymasına.....denir.
- Denizler, göller, akarsular, bitkiler ve hayvanlardır.
- Karınca yuvalarının ağzı bakar.
- Paşa Doğu Cephesi’nde Ermenilere karşı mücadele etti.
- Halkımız, Batı Cephesi’ndesavaştı.
- Olayları oluş tarihlerine göre sıraya konulmasına denir.

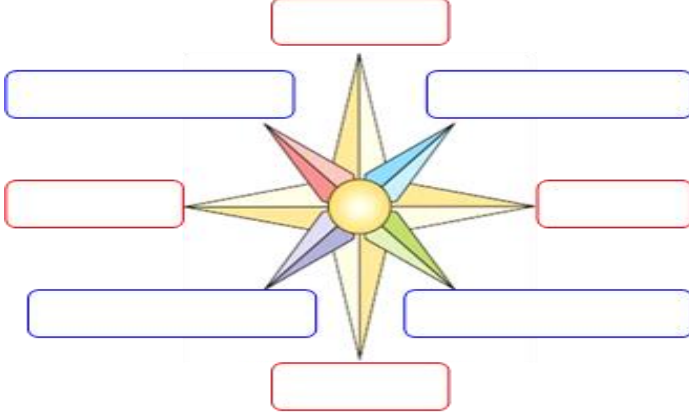
3) Aşağıda Atatürk’le ilgili olayları sıra numarası vererek kronolojik olarak sıraya koyunuz.

Cumhuriyetin İlanı (1923)	Atatürk’ün doğumu (1881)	Samsun’a Çıkması (1919)	Atatürk’ün vefatı (1938)	TBMM’nin açılışı (1920)
<input type="text"/>	<input type="text"/>	<input type="text"/>	<input type="text"/>	<input type="text"/>









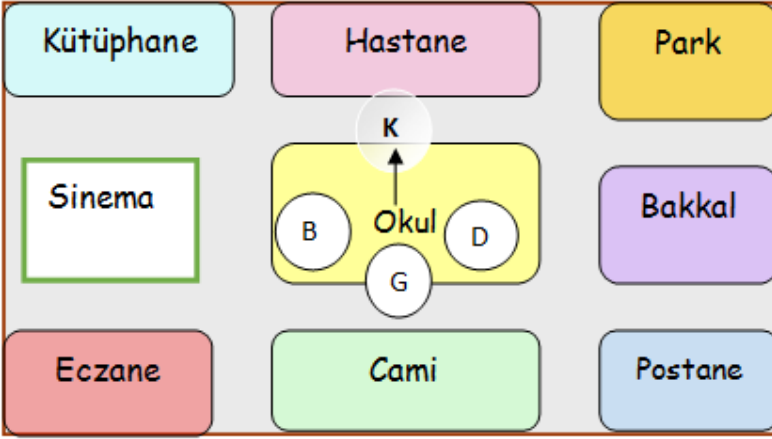
4) Aşağıdaki şeklin üzerine ana ve ara yönleri yazınız.



5) Aşağıdaki tabloda hava durumu sembollerinin anlamlarını yazınız.

	
.....
	
.....

6) Aşağıdaki krokiye göre boş yerleri doldurunuz.



- *Caminin kuzeyindevardır.
- *Hastanenin doğusunda.....vardır.
- *Bakkalın güneyindevardır.
- *Okulun kuzeydoğusundavardır.
- *Bakkalın güneybatısındavardır.

7) Doğal ve beşeri unsurlara 2 örnek verir misin?

	Doğal Unsurlar
1	
2	

	Beşeri Unsurlar
1	
2	

8) Aşağıda verilen hava durumu tablosuna göre soruları cevaplayınız.

Gün	Çarşamba	Perşembe	Cuma	Cumartesi	Pazar	Pazartesi	Salı
Hava durumu							
Sıcaklık (°C)	8	20	23	28	26	23	26

1. En sıcak gün hangi gündür?
2. En soğuk gün hangi gündür?
3. Güneşli gün sayısı kaçtır?