



AD SOY AD :

Geliştirilmeli (0-10)	Yeterli (10-20)	İyi (20-30)	Çok iyi (30-40)
--------------------------	--------------------	----------------	--------------------

SOSYAL BİLGİLER DERSİ 2. DEĞERLENDİRME ETKİNLİĞİ

1.. Aşağıdaki boşlukları uygun kelimelerle doldurunuz.

fotoğraflar - güneye - duygusal - Erzurum - sözlü tarih

- Atatürk'ün ilk kongreye katıldığı il.....dur.
- Korkularımız bir özelliğimizdir.
- Aile tarihimizi yazarkendan yararlanabiliriz.
- Karınca yuvalarının ağızları bakar.
-geçmişe ait bir konuda , o konuyla ilgili kişilerle yapılan söyleşilerden elde edilen bilgilerin bir sistem içinde değerlendirilmesidir.

2.. Aşağıdaki ifadeler doğru ise cümlelerin başına **D** , yanlış ise **Y** yazınız.

- (.....) Hava olayları günlük yaşantımızı etkilemez.
 (.....) On sekiz yaşından sonra nüfus cüzdanlarımızda fotoğraf olur.
 (.....) Cirit ata sporlarımızdandır.
 (.....) Kurtuluş Savaşımız, milli birlik ve beraberliğimize güzel bir örnektir.
 (.....) Cumhuriyet 23 nisan 1920 de ilan edilmiştir.
 (.....) Amasya Genelgesi, yurdun işgaline karşı gösterilen ilk tepkidir.
 (.....) Güneşin doğduğu tarafa kuzey denir.
 (.....) Nüfus cüzdanları kadın ve erkekte aynı renktedir.
 (.....) Vatanı için ölen kişilere gazi denir.
 (.....) Seyid Onbaşı Çanakkale kahramanlarından birisi değildir.

3.. Aşağıda verilenleri uygun şekilde eşleştiriniz. (Parantezin içine uygun harfi yazınız.)

Milli mücadele için yapılan savaşlar ile bu savaşlar sonucunda yapılan antlaşmaları eşleştiriniz.	
(.....) 1. I.Dünya Savaşı	A. Uşi Antlaşması
(.....) 2. Kurtuluş Savaşı	B. Mudanya Ateşkes Antlaşması
(.....) 3. Büyük Taaruz ve Başkumandan Meydan Muharebesi	C. Lozan Barış Antlaşması
(.....) 4. Trablusgarp Savaşı	D. Mondros Ateşkes Antlaşması

Milli Mücadele cepheleri ile bu cephelerde savaşılan devletleri eşleştiriniz.	
(.....) 1. Doğu Cephesi	A. Fransızlar
(.....) 2. Güney Cephesi	B. Yunanlılar
(.....) 3. Batı Cephesi	C. Ermeniler

Milli Mücadele sırasında gösterdikleri yiğitlikten dolayı unvan verilen şehir ve unvanlarını eşleştiriniz.	
(.....) 1. Antep	A. Şanlı
(.....) 2. Urfa	B. Kahraman
(.....) 3. Maraş	C. Gazi



4.. Aşağıdaki soruları kısaca cevaplayınız.

Aşağıda verilen ifadelerin tanımlarını karşısına yazınız.

- Kronoloji :.....
- Kroki :.....
- Pusula :.....
- Meteoroloji:.....
- Kültür :.....

5.. Aşağıda Mustafa Kemal'in milli mücadele için yaptıkları karışık verilmiştir. Kronolojik sıraya göre yazınız.

- * Erzurum Kongresi * TBMM 'nin açılışı * Atatürk'ün Samsun'a çıkışı
- * Cumhuriyetin İlanı * Sivas Kongresi

- 1).....
- 2).....
- 3).....
- 4).....
- 5).....

6.. Kimlik belgesi olarak kullanılan belgelere üç tane örnek veriniz.

- 1)..... 2)..... 3).....

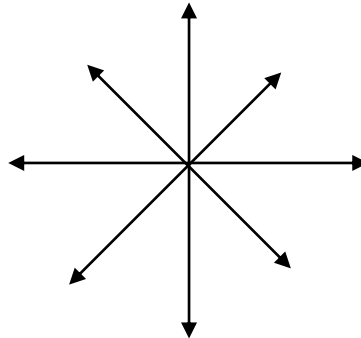
7.. Yönümüzü bulmada baş vurduğumuz yöntemlere 3 örnek yazınız.

- 1)..... 2)..... 3).....

8.. Milli kültürümüzü yansıtan unsurlara 3 tane örnek yazınız.

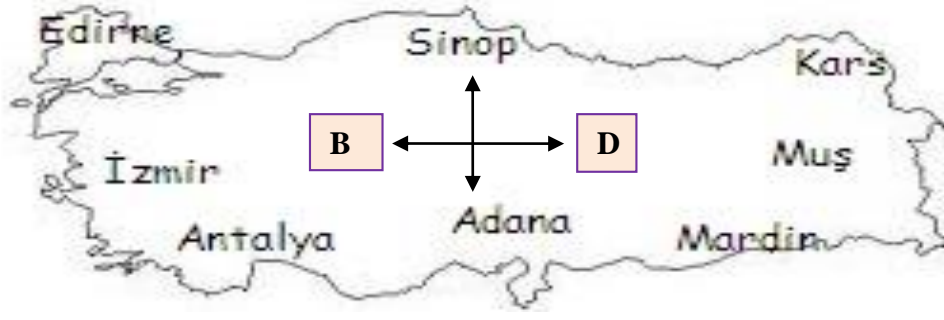
- 1)..... 2)..... 3).....

9.. Aşağıda verilen şekle ana ve ara yönleri yerleştiriniz?





10..



Yukarıdaki Türkiye haritasında verilen illerin yönlerini yanlarına yazınız. (Ara yönlere denk gelenleri hangi ara yönde olduğunu belirtiniz.)

Edirne :

Sinop:

Adana:

Muş :

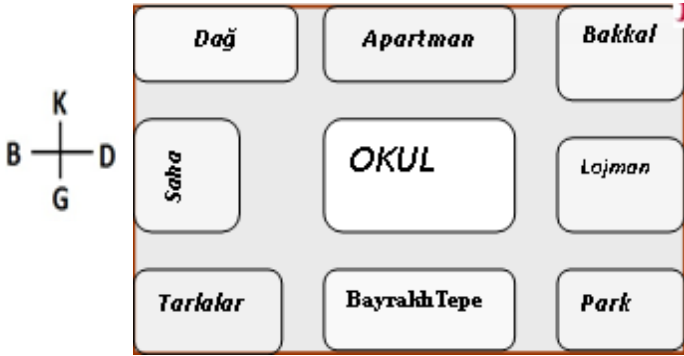
Antalya :

Mardin :

İzmir :

Kars :

11) Aşağıdaki görsele göre boşlukları doldurun.



Okulun kuzeyindevar.

Okulun güneydoğusunda.....var.

Apartmanın batısındavar.

Bayraklı Tepe, okulundir.

Bakkal, okulundır.