



## ZAMANI ÖLÇME DEĞERLENDİRME SORULARI

1. Aşağıda verilen saatlerin gösterdiği zamanlarını öğleden önce, öğleden sonra şeklinde ve okunuşlarını yazınız. (üçer puan - 36 puan)



Ö.Ö 05.05  
Ö.S 17.05  
Beşi beş  
geçiyor.



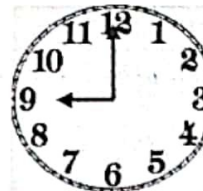
Ö.Ö 11.45  
Ö.S 23.45  
Onikiye  
çeyrek var



Ö.Ö 02.35  
Ö.S 14.35  
İki yirmi  
beş var.



Ö.Ö 05.20  
Ö.S 17.20  
Beşi yirmi  
geçiyor.



Ö.Ö 09.00  
Ö.S 21.00  
Dokuz



Ö.Ö 09.55  
Ö.S 21.55  
Ona beş  
var.



Ö.Ö 01.40  
Ö.S 13.40  
İkiye yirmi  
var.



Ö.Ö 08.25  
Ö.S 20.25  
Sekizi yirmi  
beş geçiyor



Ö.Ö 04.30  
Ö.S 16.30  
Dört buçuk



Ö.Ö 00.10  
Ö.S 12.10  
Onikiyi  
on geçiyor



Ö.Ö 10.15  
Ö.S 22.15  
Onu çeyrek  
geçiyor.




Ö.Ö 02.50  
Ö.S 14.50  
İki an  
var.

2. Aşağıda verilen dijital saatleri analog saate çeviriniz. (ikişer puan - 24 puan)



03.15



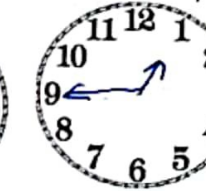
22.40




11.05



01.30



00.45



21.10



06.25



05.50



19.00



23.35



04.55



18.15





3. Aşağıda verilen iki saat dilimleriyle istenilen işlemleri yapınız. (10 puan)

04.30	$\frac{11}{12} \cdot \frac{60}{25} 85$	09.35	22.50	04.10
$\frac{+}{02.45}$	$\frac{-}{10.50}$	$\frac{+}{03.35}$	$\frac{-}{20.25}$	$\frac{+}{01.50}$
$\frac{06.75}{07.15}$	$\frac{01.35}{01.35}$	$\frac{12.70}{13.10}$	$\frac{02.15}{02.15}$	$\frac{05.60}{06.00}$

4. Aşağıdaki problemleri çözünüz. (beşer puan)

1.. Mine okula gitmek için sabah 08.20'de evden çıktı. 45 dakika sonra okula vardı. Okula vardığında saat kaç gösterir?

Cevap :

$$\begin{array}{r} 08.20 \\ + 00.45 \\ \hline 08.65 \\ \hline 09.05 \end{array}$$

2.. Her akşam ailecek 19.15 ile 20.05 arası kitap okuma saati yapıyoruz. Ailecek kaç saat kitap okuyoruz?

Cevap :

$$\begin{array}{r} 19 \\ 20.05 \\ - 19.15 \\ \hline 00.50 \end{array}$$

3.. İzmir'den 13.50'de havalanan uçak 4 saat 35 dakika sonra Ağrı'ya inmiştir. Uçak Ağrı'ya indiğinde saat kaçtır?

Cevap :

$$\begin{array}{r} 13.50 \\ + 04.35 \\ \hline 17.85 \rightarrow 60 + 25 \\ \hline 18.25 \end{array}$$

4.. Saat 10.00'da dışarıya çıktım yarım saat parkta oynadım, bir saat bisiklete bindim ve eve dönüşüm 15 dakika sürdüğüne göre eve geldiğimde saat kaçtır?

Cevap :

$$\begin{array}{r} 01.00 \\ 30 \\ + 15 \\ \hline 01.45 \end{array} \quad \begin{array}{r} 10.00 \\ + 01.45 \\ \hline 11.45 \end{array}$$

5.. Şuan saat 21.40 ise 5 saat 50 dakika önce saat kaçtı?

Cevap :

$$\begin{array}{r} 21.40 \\ - 05.50 \\ \hline 15.50 \end{array}$$

6.. Duvardaki saat 14.25'i gösteriyor. 8 saat 45 dakika sonra kaç gösterir?

Cevap :

$$\begin{array}{r} 14.25 \\ + 08.45 \\ \hline 22.70 \rightarrow 60 + 10 \\ \hline 23.10 \end{array}$$

