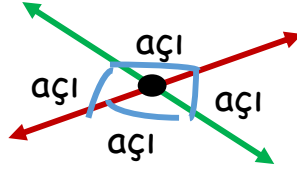
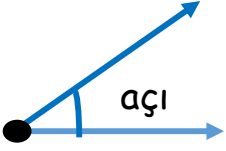




GEOMETRİK KAVRAMLAR

AÇI

- Bir noktadan çıkan ışınların arasında oluşan açıklığa "açı" denir.
- Kesişen doğruların kesiştikleri noktada oluşan açıklığa "açı" denir.



ETKİNLİK:

1. Aşağıdaki görselleri inceleyiniz. Açısı olanların kutusunu işaretleyiniz.









































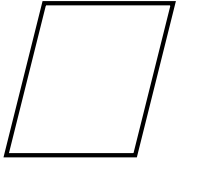
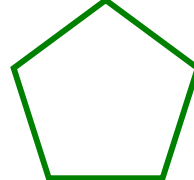




2. Aşağıdaki harf ve rakamlarda olan açıları kırmızı ile gösteriniz.

1 4 M T A 5

E H K 7 F L

3. Aşağıdaki geometrik şekillerin açılarını kırmızı ile gösteriniz. Kaç adet açısı olduğunu altına yazınız.



Açı sayısı:.....

Açı sayısı:.....

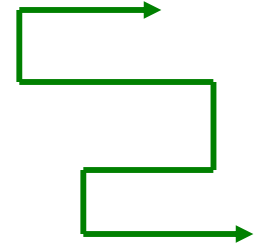
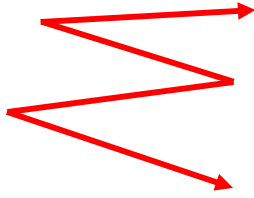
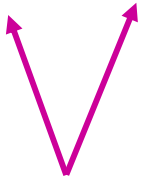

Açı sayısı:.....

Açı sayısı:.....

Açı sayısı:.....

Açı sayısı:.....

4. Aşağıdaki şekillerin açılarını kırmızı ile gösteriniz. Açı sayısını altına yazınız.



Açı sayısı:.....

Açı sayısı:.....

Açı sayısı:.....

Açı sayısı:.....

Açı sayısı:.....

5. Açısı olanları işaretleyiniz.

