



Ad Soy ad :

Her soru 2 puandır.Senin puanın:.....

TÜM DERSLER DENEME SINAVI -1

Matematik: Doğal Sayılar, Toplama İşlemi

1.. **5A2B** rakamları farklı dört basamaklı bir doğal sayıdır.

Bu sayıyı oluşturan rakamların toplamı en çok kaç olabilir?

A.. 23 B.. 24 C.. 25 D.. 26

2.. 2400'den başlayıp (2400 dahil) biner ritmik saydığımızda beşinci saymada hangi sayıyı söyleriz?

A..4400 B..5400 C..6400 D..7400

3.. Aşağıdaki doğal sayıların hangisinde 5 rakamının basamak değeri 50000'dir?

A.. 542013 B.. 456662
C.. 725230 D.. 260352

4.. "Yedi yüz kırk iki bin üç yüz üç"

Sayısının okunuşu aşağıdakilerden hangisidir?

A.. 742313 B.. 740230
C.. 742303 D.. 742333

5.. 3 rakamının basamak değeri hangi doğal sayıda en fazladır?

A.. 320112 B.. 93225
C.. 8832 D.. 78397

6.. 223060 sayısının okunuşu aşağıdakilerden hangisidir?

A.. İki yüz yirmi üç bin altı yüz
B.. İki yüz yirmi üç bin altı
C.. Yirmi iki bin üç yüz altmış
D.. İki yüz yirmi üç bin altmış

7.. Dört basamaklı en büyük çift doğal sayı hangisidir?

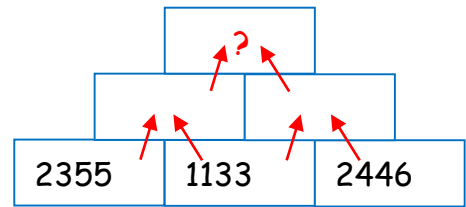
A.. 9998 B.. 9999
C.. 99998 D.. 998

8.. $2356 < A < 2658$

Yukarıdaki sıralamada A yerine yazılabilecek en küçük ve en büyük doğal sayılar hangileridir?

A.. 2355 - 2659 B.. 2357 - 2650
C.. 2350 - 2657 D.. 2357 - 2657

9..



Sayıları ok yönünde topladığımızda "?" yerine hangi sayı gelmelidir?

A.. 5934
B.. 4801
C.. 7067
D.. 6067





3642

10..

Yukarıdaki sayının en yakın onluğu ve en yakın yüzlüğü hangisidir?

	En yakın onluğu	En yakın yüzlüğü
A..	3660	3600
B..	3640	3600
C..	3650	3700
D..	3650	3600

11.. 1 - 3 - 9 - 27 - ?

Yukarıdaki sayı örüntüsünde "?" yerine hangi sayı gelmelidir?

A.. 30 B.. 81 C.. 33 D.. 71

12..6 yüz binlik + 5 on binlik + 2 yüzlük + 3 birlik

Yukarıda çözümlenmesi verilen sayı hangisidir?

A.. 652003 B.. 605230
C.. 65203 D.. 650203

$$\begin{array}{r} 13.. \quad 3421 \\ + \quad 4699 \\ \hline \end{array}$$

Yukarıdaki toplama işlemi ile aynı sonuçta olan hangisidir?

A.. $\begin{array}{r} 2651 \\ + 5466 \\ \hline \end{array}$ B.. $\begin{array}{r} 4210 \\ + 3920 \\ \hline \end{array}$
C.. $\begin{array}{r} 5239 \\ + 2881 \\ \hline \end{array}$ D.. $\begin{array}{r} 2891 \\ + 5225 \\ \hline \end{array}$

Türkçe : Harf,Hece,Kelime Bilgisi,Anlama Çalışması

14.. Sarardı bak yine yapraklar
Yağdı hiç durmadan yağmurlar
Gelir aklıma o sıcak günler.
Hep kaplar içimi hüznüler.

Seçil Can Yüzgül

Şiirin konusu nedir?

A.. Yağmurun sevilmesi
B.. Sonbaharın gelişi
C.. Hüzünlü zamanların gelmesi
D.. Sıcak günlere veda edilmesi

15.. "Dünya kendi eksenini etrafında döner,
Güneş'in etrafında dolanır."

Yukarıda nasıl bir anlatım vardır?

A.. Bilgi verici B.. Öğüt verici
C.. Açıklayıcı D.. Hikayeleştirici

16.. Aşağıdaki cümlelerin hangisinde eş sesli bir kelime vardır?

A.. Top yokuştan aşağıya yuvarlandı.
B.. Saatlerdir dikili bir şekilde bekliyorum.
C.. Bu kanepeleri kim hazırladı?
D.. Zamanın nasıl geçtiğini anlamadım.

17.. Aşağıdaki hangi cümlenin sonuna soru işareti konulmaz?

A.. Bu kitapların yeri neresi
B.. Seninle birlikte dolaşan çocuk kim
C.. Seninle geleyim mi gideyim mi anlamadım
D.. Bacağına ne oldu öyle





18.. Aşağıdaki cümlelerin hangisinde kelime zıt anlamlısı ile birlikte kullanılmamıştır?

- A.. Öğretmenim defterime kocaman bir yıldız çizdi.
- B.. Gökyüzünde irili ufaklı yıldızlar parlıyordu.
- C.. Sütü sıcak sevmem, soğuk severim.
- D.. Öğretmenimiz bize gece gündüz oyununu oynattı.

19.. Aşağıdaki hangi cümlede noktanın kullanım yeri diğerlerinden farklıdır?

- A.. İlk defa sınıf 1.si oldum.
- B.. Saat 09.10'da ders başlıyor.
- C.. Neden hep 2.sıraya oturuyorum?
- D.. Bu kitabı 3.defa okuyorum.

20.. "Türkçe'de birinci heceden sonra gelen heceler ünlü harf ile başlamaz."

Aşağıda hecesine yanlış ayrılan kelime hangisidir?

- A.. ba - şöğ - ret - men
- B.. as - la - nağ - zı
- C.. de - ni - za - tı
- D.. ha - nım - e - li

21.. Annem her zaman bana "Bu dünyada hep iyi ol yavrum. Sen iyi olursan herkes de sana iyi olur. İşin hep rast gider ve yoluna hep iyi insanlar çıkar." derdi. Ben de hep annemin nasihatine uymaya ve iyi bir insan olmaya çalışıyorum.

Yukarıdaki metnin başlığı ne olabilir?

- A.. Annemin Nasihati
- B.. Anneme Sevgim
- C.. İyi Bir İnsan Olmanın Önemi
- D.. İyi Bir İnsan Olalım

22.. öğretmen
soru
düş

rüya
yanıt
sual

cevap
muallim
okul

Yukarıdaki hangi kelime eş anlamı ile eşleşemez?

- A.. muallim
- B.. sual
- C.. yanıt
- D.. okul

23.. " Ünlem işareti cümlede iki farklı yerde olabilir. Ünlem kelimesinden sonra veya cümle sonunda konur."

Yukarıdaki bilgiye göre aşağıdaki hangi cümlede boş bırakılan yerlerde ünlem kelimesi diğerlerinden farklı yerdedir?

- A.. Of (...) Ayağımı çok kötü burktum (...)
- B.. Ay (...) Az daha kediciğ eziliyordu (...)
- C.. Yaşasın (...) bugün balık tutmaya gideceğiz (...)
- D.. Oley (...) Bu sefer şans bana güldü (...)

24.. Aşağıdaki hangi cümlede tek başına anlamı olmayan bir kelime yoktur?

- A.. Osman ve Ali iki iyi arkadaşları.
- B.. Bir türlü aradığımı bulamıyorum.
- C.. Çalışkan fakat çalışmıyor.
- D.. Kolu incinmiş çünkü dikkat etmemiş.

25.. Aşağıdaki hangi cümlede hatalı bir kelime yoktur?

- A.. Perşembe günlerini çok severim.
- B.. Ben penbe giyinmeyi çok severim.
- C.. Samırsak çok ağır kokuyor.
- D.. Annem sovan doğrarken gözleri yaşarır.






Fen Bilimleri : 1.Ünite

26..	demir	kaya	altın	bor
	gümüş	petrol	taş	Taş kömürü

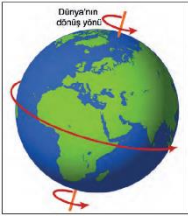
Yukarıda verilenlerden kaç tanesi madendir?

- A.. 4 B.. 5 C.. 6 D.. 7

27.. Aşağıdakilerden hangisi fosil değildir?



28..



Dünya'nın kendi etrafında yaptığı dönme hareketinin yönü doğrudur.

Yukarıdaki boş yere hangi ifade gelmelidir?

- A.. doğudan batıya B.. batıdan doğuya
C.. kuzeyden güneye D..güneyden kuzeye

29.. Aşağıdakilerden hangisi fosillerin faydalarından değildir?

- A..Nesli tükenmiş canlılar hakkında bilgi verir.
B..Fosillerden kömür,petrol,doğalgaz elde edilir.
C.. Çevre kirliliğine neden olur.
D.. Bir yerin iklimi, coğrafi özellikleri ile ilgili bilgi verir.

30.. Kayaçların dönüşüm evresi hangi seçenekte doğru verilmiştir?

- A.. kayaç - kaya- çakıl - taş - toprak - kum
B.. kayaç - kaya - çakıl - toprak - taş - kum
C.. kayaç - kaya - çakıl - kum - taş - toprak
D.. kayaç - kaya - taş - çakıl - kum - toprak

31.. Canlıların hemen hava ile teması kesilir. Üzeri toprak,kil ve minerallerle kaplanır. Zamanla sertleşir ve haline gelir.

Yukarıda boş yere hangi ifade gelmelidir?

- A.. kayaç B.. fosil
C.. maden D.. petrol

32.. Aşağıdakilerden hangisi kayaçların oluşumunu etkileyen dış faktörlerden biri değildir?

- A.. deprem B.. canlılar
C.. rüzgar D.. sıcaklık

33.. Aşağıdakilerden hangisi fosil olarak kabul edilen kalıntılardan biri değildir?

- A..deri B..diş C..tırnak D..boynuz

34.. "Türkiye madeni ile Dünya'da birinci sıradadır."

Verilen bilgiye göre boş yere hangi maden yazılmalıdır?

- A.. taş kömürü B.. altın
C.. linyit D.. bor





35.. Dünya'nın dolanma hareketinin sonucu aşağıdakilerden hangisi oluşmaz?

- A.. mevsimler B.. gece ve gündüz
C.. bir yıl D.. on iki ay

Sosyal Bilgiler : 1.Ünite

36.. Aşağıdakilerden bilgilerden hangisi kimlik belgesinde bulunmaz?

- A.. akraba isimleri B.. ad soy ad
C.. anne ve baba adı D.. doğum tarihi

- 37.. 1..Parmak izi 2..kan grubu
3.. medeni hali 4..cinsiyeti
5.. önceki soyadı

Kimlik belgesinin yongasında (çipinde) yukarıdaki hangi bilgi yer almaz?

- A.. parmak izi B.. medeni hali
C.. kan grubu D.. cinsiyeti

38.. Kimlik kartımızı aşağıdaki hangi durumlarda kullanmayız?

- A.. Trafikte polis kontrolü sırasında
B.. Eve beyaz eşya alırken
C.. Okula kayıt olurken
D.. Hastanede muayene kaydı sırasında

39.. Kimlik kartlarına kaç yaşından itibaren fotoğraf konulması zorunludur?

- A.. 10 B.. 15 C.. 17 D.. 18

40.. Kendi hayatımızda veya başka bir kişni hayatında geçmişte yaşanmış önemli olayların tarihlerine göre sıralanmasınadenir.

Yukarıdaki bilgiye göre boş yere hangi ifade gelmelidir?

- A.. kroki B.. zaman
C.. kronoloji D.. tarih

41.. Yeni bir kimlik çıkarmak için nereye başvururuz?

- A.. Nüfus Müdürlüğüne
B.. Emniyet Müdürlüğüne
C.. Milli Eğitim Müdürlüğüne
D.. İl Sağlık Müdürlüğüne

42..

- I. 19 Mayıs 1919 - Atatürk'ün Samsun'a çıkışı.
II. 29 Ekim 1923 - Cumhuriyet'in ilanı
III. 30 Ağustos 1922 - Başkomutanlık Meydan Savaşı
IV. 23 Nisan 1920 - TMMM'nin açılışı

Yukarıdaki önemli olayların kronolojik olarak sıralanışı nasıldır?

- A.. I - II - IV- III B.. I - IV - II - III
C.. IV - I - III - II D.. I - IV - III - II

43.. İlgi, yetenek ve isteğimize göre boş zamanlarımızı değerlendirmek için yaptığımız etkinliklere ne denir?

- A.. fobi B.. hobi
C.. oyun D.. spor





44.. Başkaları ile benzer yönlerimiz olduğu gibi farklı yönlerimiz de vardır. Bu farklılıklara göstermeliyiz.

Boş yere hangi ifade gelmelidir?

- A.. sevgi B.. sempati
C.. saygı D.. hoşgörü

45.. "Hoşgörü" kelimesi bize aşağıdakilerden hangisini çağrıştırmaz?

- A.. Ayıp durumları herkese duyurmak
B.. Ayıp durumları örtmek
C.. Alay etmemek
D.. Anlayış göstermek



46.. My pencil is in my

Yukarıdaki cümlede boş bırakılan yere aşağıdaki seçeneklerden hangisi gelmelidir?

- A.. Ruler B.. School bag
C.. Pencil case D.. Scissors

47.. Be _____ please!

Cümlede boş bırakılan yere aşağıdaki seçeneklerden hangisi gelmelidir?

- A.. Quiet B.. Come in
C.. Turn around D.. Give me the ruler

48.. Ninety-seven

Verilen sayının rakamla karşılığı nedir?

- A.. 17 B.. 19 C.. 97 D.. 79



49.. Give me the _____, please?

Cümlede boş bırakılan yere aşağıdaki seçeneklerden hangisi gelmelidir?

- A.. Ruler B.. Eraser
C.. Window D.. Scissors



50.. Ayşe: _____, please?
I can't hear you.
Ali: Of course.

Cümlede boş bırakılan yere aşağıdaki seçeneklerden hangisi gelmelidir?

- A.. Can you speak loudly? B.. How are you?
C.. What is your name
D.. May I turn on the light?