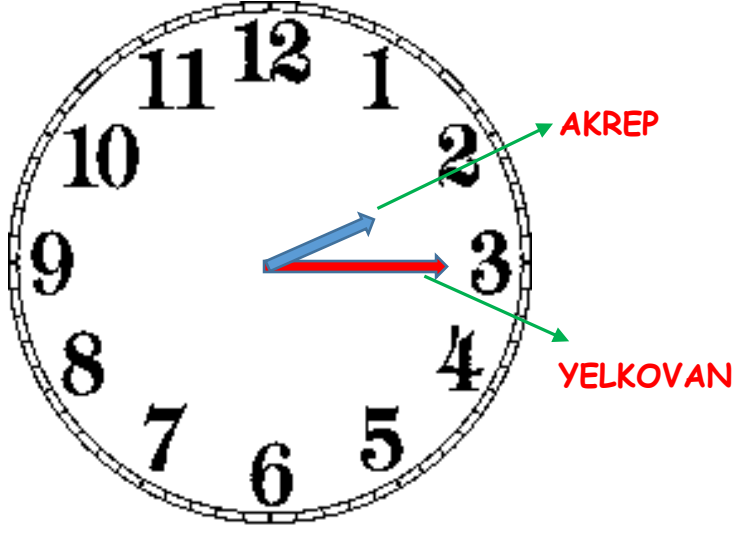


ÇEYREK GEÇE SAATLER



- **YELKOVAN** "3" ün üstündedir.
- 15 dakika geçmiştir.
- Çeyrek geçiyor diye okunur.
- Öğleden sonraki saatleri 12'nin üzerine akrebin gösterdiği saati ekleyerek buluruz.

SAAT Öğleden önce 02.15
Öğleden sonra $12+2 = 14$.15
SAAT : 2'yi çeyrek geçiyor.

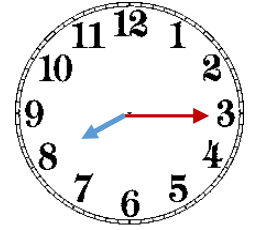
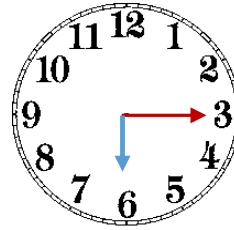
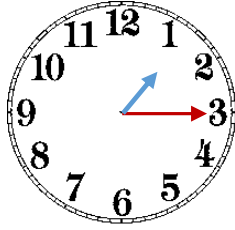
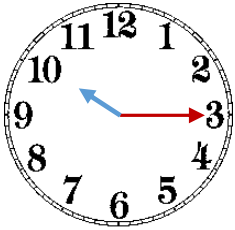


www.secilogretmen.com @secil_ogrtmen

İlkokul İçerikleri

ETKİNLİK

- Aşağıdaki saatlerin kaçı gösterdiğini aşağısına yazınız.




Öğleden önce :
Öğleden sonra :
Okunuşu :
.....

Öğleden önce :
Öğleden sonra :
Okunuşu :
.....

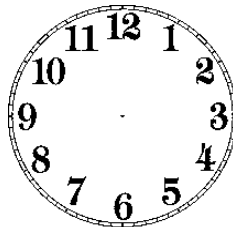
Öğleden önce :
Öğleden sonra :
Okunuşu :
.....

Öğleden önce :
Öğleden sonra :
Okunuşu :
.....

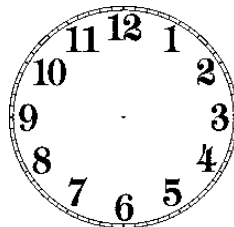
- Aşağıda verilen saatlerin akrep ve yelkovanını çiziniz.




01.15




20.15



06.15




18.15



10.15

ÇEYREK VAR SAATLER



SAAT : 02.45 → 14.45

SAAT : 3'e çeyrek var.

- **AKREP** bir sonraki saatin sayısına yakındır.
- 15 dakika sonra yeni saate girilecektir.
- **YELKOVAN** "9" ün üstündedir.
- 45 dakika geçmiştir.
- Çeyrek var ya da 45 geçiyor diye okunur.

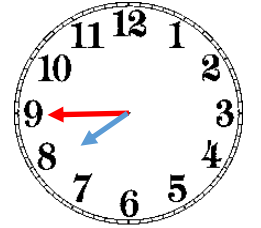
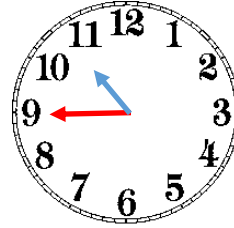
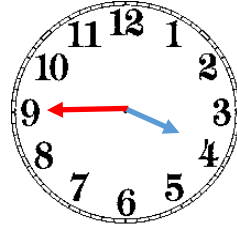
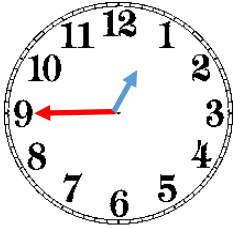


www.secilogretmen.com @secil_ogrtmen

İlkokul İçerikleri

ETKİNLİK

- Aşağıdaki saatlerin kaçı gösterdiğini aşağısına yazınız.



Öğleden önce :

Öğleden sonra :

Okunuşu :

.....

Öğleden önce :

Öğleden sonra :

Okunuşu :

.....

Öğleden önce :

Öğleden sonra :

Okunuşu :

.....


Öğleden önce :

Öğleden sonra :

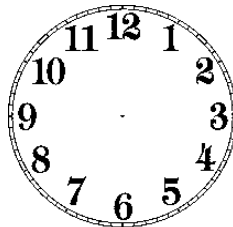
Okunuşu :

.....

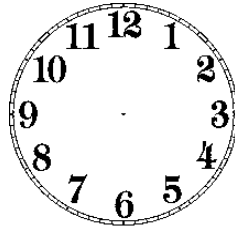
- Aşağıda verilen saatlerin akrep ve yelkovanını çiziniz.




01.45




20.45



06.45



18.45



10.45