



AD SOY AD :

## 2. SINIF SAATLER SÜREÇ DEĞERLENDİRME SORULARI

1. Aşağıdaki boşlukları uygun ifadelerle doldurunuz. (İkişer Puan)

- Zaman ölçme aracına ..... denir.
- Saatin içindeki kısa çubuğun adı ..... uzun çubuğun adı ..... dir.
- Akrep ..... gösterir, yelkovan ..... gösterir.
- 1 saat ..... dakikadır.
- Yarım saat ..... dakika çeyrek saat ..... dakikadır.

2. Aşağıdaki saatlerin kaçı gösterdiğini ve okunuşunu altına yazınız.

(Altışar Puan)

..... . .....	..... . .....	..... . .....	..... . .....	..... . .....
Okunuşu =	Okunuşu =	Okunuşu =	Okunuşu =	Okunuşu =
.....	.....	.....	.....	.....

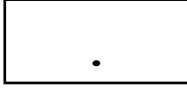
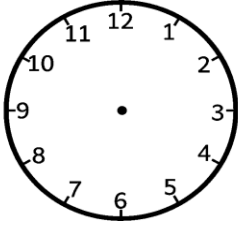
3. Verilen saatlerin akrep ve yelkovanını çiziniz. (İkişer Puan)

03.30	13.15	05.45	22.00	06.15

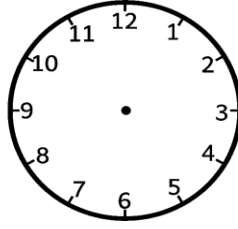




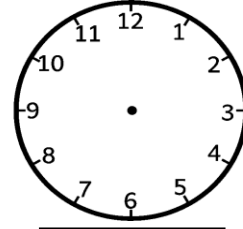
4. Aşağıdaki saatlerin istenildiği gibi akrep ve yelkovanlarını çiziniz.



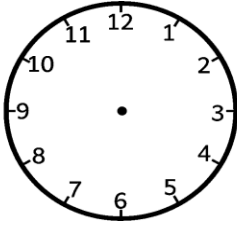
1 saat önce



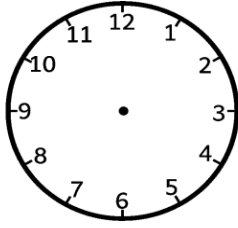
04.00



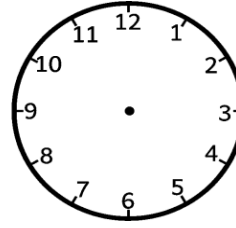
1 saat sonra



Yarım saat önce



06.00



Yarım saat sonra

5. Aşağıdaki problemleri çözünüz. (1,2,4. sorular altışar puan. 3. soru sekiz puan)

1. Ayşe saat 02.00'da kitap okumaya başladı ve iki saat kitap okudu. Kitap okumayı bıraktığında saat kaçtır?

2. Deniz saat 08.30'da uyumuş ve 10.30'da uyanmıştır. Deniz kaç saat uyumuştur?

3. Saat 04.00'da başlayan film 1 saat 30 dakika sonra bitmiştir. Film bittiğinde saat kaç gösterir?

4. Otogardan 06.30'da ayrılan otobüs 11.30'da Eskişehir'e varıyor. Yolculuk kaç saat sürmüştür?

