




Ad Soy ad:

Puan:

BÜTÜN, YARIM, ÇEYREK SÜREÇ DEĞERLENDİRME SORULARI

1. Aşağıdaki nesnelerin altına bütün, yarım, çeyrek ifadelerinden uygun olanlarını yazınız. (İkişer puan)



.....

.....

.....

.....

.....



.....

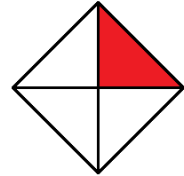

.....

.....

.....

.....

2. Aşağıdaki şekillerin boyalı olduğu alanlarına göre bütün, yarım, çeyrek ifadelerinden uygun olanını yazınız. (İkişer puan)



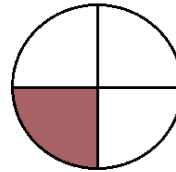
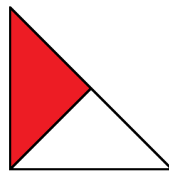

.....

.....

.....

.....

.....



.....

.....

.....

.....

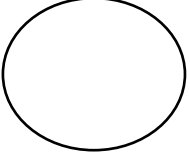
.....





3. Aşağıdaki şekilleri istenilen kadar boyayınız. (İkişer puan)

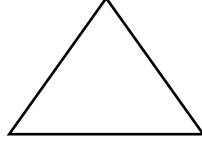
BÜTÜN



YARIM




YARIM



ÇEYREK



BÜTÜN



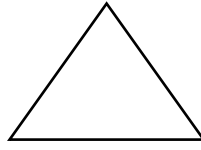
YARIM




ÇEYREK



BÜTÜN



ÇEYREK



YARIM



4. Aşağıdaki soruları cevaplayınız. (Dörder puan)

- 1 bütün yarım eder.
- 1 bütün çeyrek eder.
- 2 bütün yarım eder.
- 2 bütün çeyrek eder.
- 2 yarım bütün eder.
- 4 yarım bütün eder.
- 1 yarım çeyrek eder.
- 4 çeyrek bütün eder.
- 8 çeyrek bütün eder.
- 1 bütün 2 yarım bütün eder.