


YARIM SAATLER



*Akrep iki sayının arasındadır.

*Yelkovan 6'nın üzerindedir.

*Saat; akrebin ortasında olduğu sayılardan küçük olanıdır.

Saat : 02.30

Saat : İki buçuk

Etkinlik

1. Aşağıdaki saatlerin kaçı gösterdiğini altlarına yazınız.



Saat :

Saat :



Saat :

Saat :




Saat :

Saat :



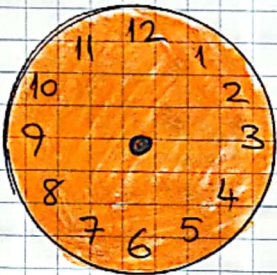
Saat :

Saat :



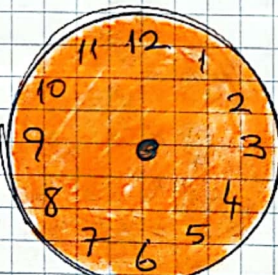
Saat : 01.30

Saat : 1 buçuk



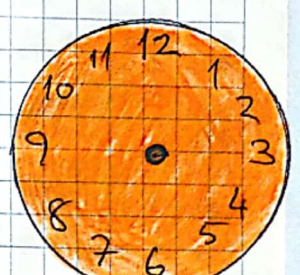
Saat : 06.30

Saat : 6 buçuk



Saat : 09.30

Saat : 9 buçuk



Saat : 12.30

Saat : 12 buçuk

2. Yukarıdaki saatlerin akrep ve yelkovanını çizin.