


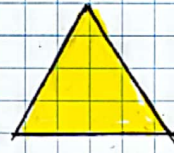

KESİRLER

Bütün

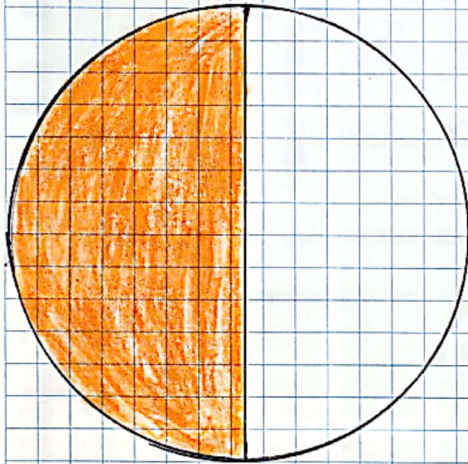


* Bir nesnenin eş parçalarına ayrılmamış olan ilk halidir.

Örnek:

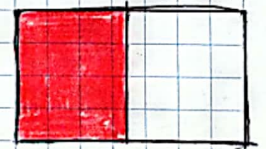
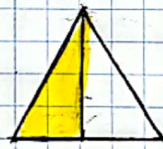
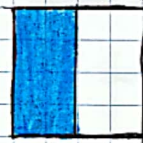


Yarım

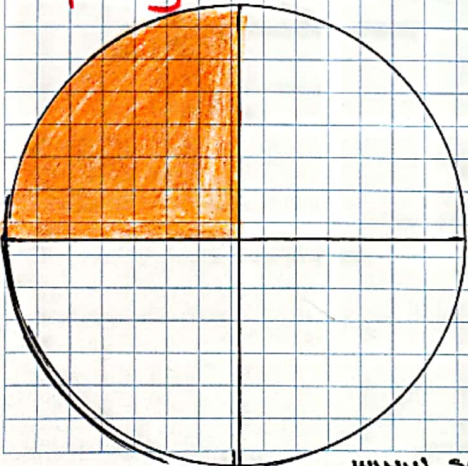


* Bir bütünün iki eş parçaya bölünmesiyle elde edilen her iki eş parçaya yarım denir.

Örnek:




Çeyrek



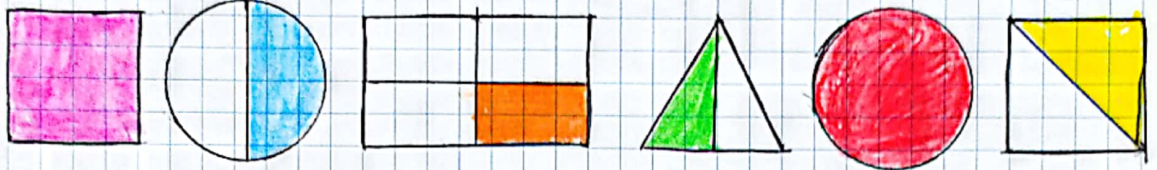
* Bir bütünün dört eş parçaya bölünmesiyle elde edilen her dört eş parçaya çeyrek denir.

Örnek:

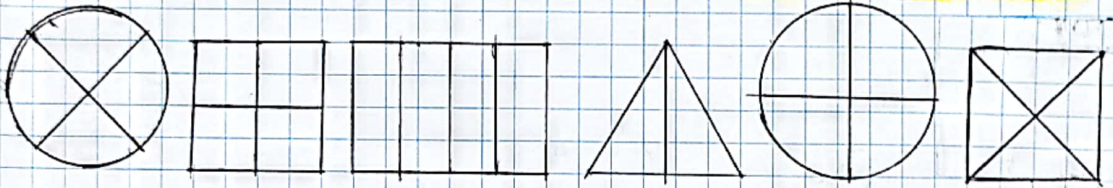


KESİRLER Etkinliği — 1

* Aşağıdaki şekillerin boyalı alanlarının adını altına bütün, yarım, çeyrek şeklinde yazınız.



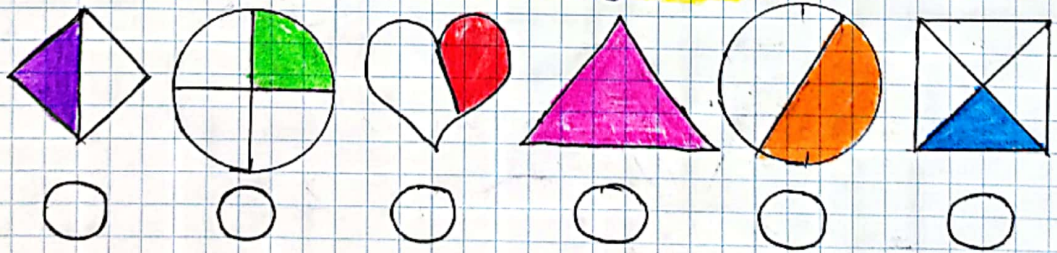
* Aşağıdaki şekillerin yarısını boyayınız.



* Aşağıdaki şekillerin çeyreğini boyayınız.



* Aşağıdaki şekillerden yarısı boyanmış olanların altındaki kutuyu kırmızıya boyayınız.



* Aşağıdaki şekillerden çeyreği boyanmış olanların altındaki kutuyu yeşile boyayınız.

